

**2021-2022 EĞİTİM ÖĞRETİM YILI HABİBE TAŞ İLKOKULU**  
**MATEMATİK DERSİ 4/B SINIFI 2.DÖNEM 1.YAZILI SORULARI ( KAYNAŞTIRMA )**

Adı-Soyadı:.....

Tarih:...../04 /2022

Numara:.....

Puan:.....

**SORULAR**

1.) Aşağıdaki toplama ve çıkarma işlemlerini yapalım. (5 x 2 p. = 10 p.)

$$\begin{array}{r} 246 \\ + 352 \\ \hline \end{array}$$

$$\begin{array}{r} 358 \\ + 324 \\ \hline \end{array}$$

$$\begin{array}{r} 759 \\ - 254 \\ \hline \end{array}$$

$$\begin{array}{r} 453 \\ - 246 \\ \hline \end{array}$$

$$\begin{array}{r} 867 \\ - 503 \\ \hline \end{array}$$

2.) Aşağıdaki çarpma işlemlerini yapalım. (5x2 = 10 p.)

$$\begin{array}{r} 3 \\ \times 6 \\ \hline \end{array}$$

$$\begin{array}{r} 5 \\ \times 8 \\ \hline \end{array}$$

$$\begin{array}{r} 23 \\ \times 2 \\ \hline \end{array}$$

$$\begin{array}{r} 41 \\ \times 6 \\ \hline \end{array}$$

$$\begin{array}{r} 70 \\ \times 3 \\ \hline \end{array}$$

3.) Aşağıdaki kesirlerin hangi tür kesir olduklarını altına yazalım. ( 5x2 p= 10 p ) ( Basit kesir – Bileşik kesir- Tam sayılı kesir)

$$\frac{2}{5}$$

$$2\frac{3}{6}$$

$$\frac{8}{5}$$

$$\frac{12}{10}$$

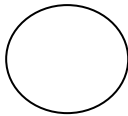
$$\frac{4}{8}$$

.....

4.) a) Aşağıdaki belirtilen kesirlere ilişkin şekilleri çiziniz. ( 4 p )




$$\frac{1}{2}$$




$$\frac{2}{4}$$

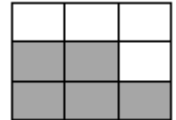
b) Aşağıdaki şekillere ilişkin kesir sayılarını yazınız. ( 6 p )



.....



.....



.....

5.) Aşağıdaki işlemleri yapalım. ( 5x2 p = 10 p )

a)  $\frac{2}{8} + \frac{3}{8} =$

c)  $\frac{6}{13} + \frac{5}{13} =$

ç)  $\frac{14}{10} - \frac{9}{10} =$

d)  $\frac{8}{9} - \frac{2}{9} =$

e)  $\frac{10}{15} - \frac{3}{15} =$

6.) Noktalı yerleri verilen sayılardan uygun olanlarıyla tamamlayınız. ( 5x2 p = 10 p )

( 7 - 24 - 365 - 60 - 12 )

1 saat = ..... dakika

1 gün = ..... saat

1 hafta = ..... gün

1 yıl = ..... ay

1 yıl = ..... gün

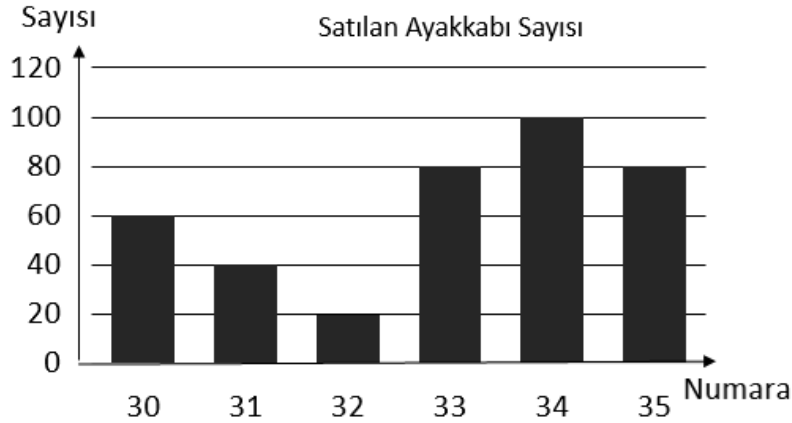
- 7.) Bir köylü 97 tane koyunun 51 tanesini satmış. Geriye kaç tane koyun kalmıştır? (5 p)  
**Çözüm:**

- 8.) Oya'nın 145 lirası vardı. Dedesi Oya'ya 35 lira verdi. Oya'nın kaç lirası oldu? (5 p)  
**Çözüm:**

- 9.) Her gün 4 tane ekmek tüketen bir aile 6 günde kaç tane ekmek tüketir? (5 p)  
**Çözüm:**

- 10.) 24 tane fındığı 3 arkadaş eşit olarak paylaşmış. Her birine kaç fındık düşmüştür? (5 p)  
**Çözüm:**

11.)



Aşağıdaki soruları yukarıdaki grafiğe göre cevaplayınız . ( Her soru 5 p.)

- a) En fazla satılan ayakkabı numarası kaçtır ? Cevap : .....
- b) En az satılan ayakkabı numarası kaçtır ? Cevap : .....
- c) Eşit sayıda satılan ayakkabı numaraları hangileridir? Cevap : .....
- d) 33 numara ayakkabı 31 numara ayakkabıdan kaç tane fazla satılmıştır?  
Cevap : .....